

Jméno: _____

Datum: _____

OBYVATELSTVO AFRIKY

V tomto pracovním listu se budete zabývat obyvatelstvem Afriky. Vaším úkolem bude pracovat s online atlasem, který najdete zde: <https://atlas.mapy.cz/>. Dále budete využívat web <https://1url.cz/@mesta>. Oba url odkazy lze otevřít i pomocí QR kódu. V jednom cvičení je třeba číst informace z grafu, který je z webu <https://ourworldindata.org>.



Online atlas
<https://atlas.mapy.cz>

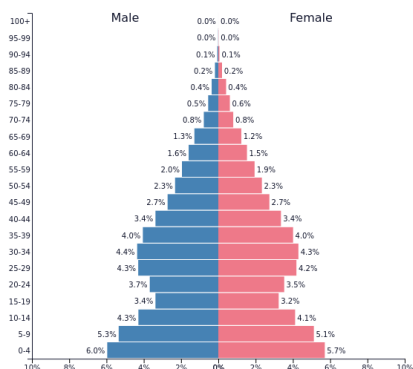


Mapa růstu počtu obyvatel ve městech
<https://1url.cz/@mesta>

1. VĚKOVÉ PYRAMIDY

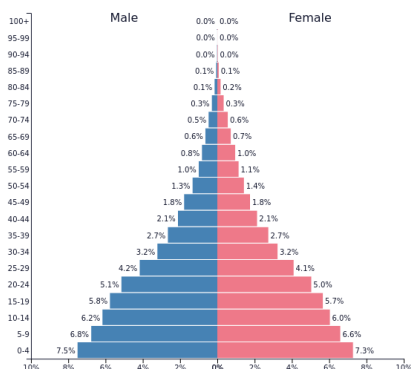
Základem pro zodpovězení následujících otázek je znalost toho, co je to věková pyramida. Rozhodněte, která věková pyramida patří Nigeru, Alžírsku a Etiopii. Náповědou Vám budou v online atlasu hlavně tyto mapy: stáří, plodnost, přirozený přírůstek obyvatelstva, střední délka života, úmrtnost. Následně okomentuj své rozhodnutí pomocí minimálně tři vět.

1.



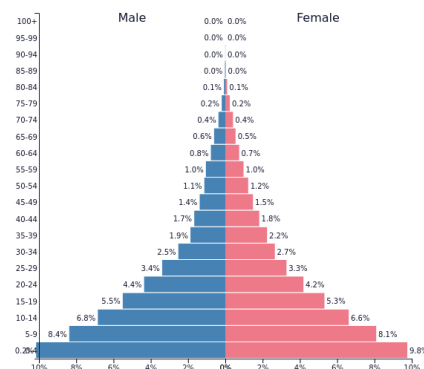
PopulationPyramid.net

2.



PopulationPyramid.net

3.



PopulationPyramid.net

Věková pyramida 1 -

Věková pyramida 2 -

Věková pyramida 3 -

Komentář:

2. URBANIZACE

A) Zjistěte z online atlasu, co znamená slovo "urbanizace" a vysvětlete ho.



zachranzemepis.cz

B) Najděte dva státy Afriky, které mají nízkou míru urbanizace a dva státy, které mají naopak vysokou míru urbanizace. Zároveň s tím to porovnejte s Českou republikou.

Míra urbanizace v České republice:

Státy Afriky s nízkou mírou urbanizace:

- 1.
- 2.

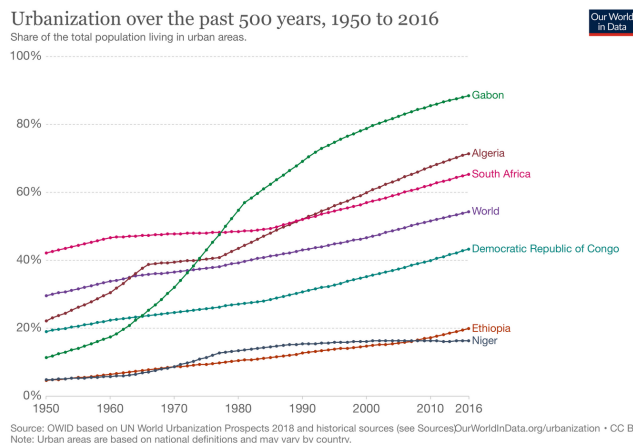
Státy Afriky s vysokou mírou urbanizace:

- 1.
- 2.

C) Zde můžete vidět graf, který ukazuje vývoj urbanizace ve vybraných státech Afriky v porovnání se světem od roku 1950 do roku 2016.

- Jaký stát z grafu měl v roce 1950 nejvyšší míru urbanizace?

- Který z uvedených států měl za uvedené období největší nárůst urbanizace?



- Slovně ve třech větách popiš vývoj urbanizace jednoho z uvedených států.

3. MĚSTA AFRIKY

V internetovém prohlížeči zapněte interaktivní mapu na adrese <https://1url.cz/@mesta>. Mapa zobrazuje počet obyvatel největších měst světa v letech 1950 až 2030. Táhnutím na spodní lištu pod mapou měníte rok, ze kterého jsou zobrazované údaje.

A) Jaká města Afriky měla v roce 1950 více než 10 miliónů obyvatel a které mají více než 10 miliónů obyvatel v roce 2020?

V roce 1950:

V roce 2020:

B) Pomocí atlas.mapy.cz zjistěte, jaké je hlavní město Gabonu. Poté pomocí webu <https://1url.cz/@mesta> zjistěte, jak se vyvíjel počet obyvatel v tomto městě a několik a větami okomentujte, zda lze najít nějakou provázanost mezi urbanizací v Gabonu a změnou počtu obyvatel v hlavním městě.

Hlavní město Gabonu:

Komentář:

